




たしざん 2桁+1桁 くりあがりあり

なまえ




| | | |
|---|---|---|
| | 2 | 5 |
| + |  | 6 |
| |  |  |

たす

① $5 + 6 = 11$

たす

② $2 + 1 = 3$




| | | |
|---|---|---|
| | 6 | 4 |
| + |  | 8 |
| |  |  |

たす

① $4 + 8 =$

たす

② $6 + 1 =$

| | | |
|---|---|---|
| | 3 | 7 |
| + |  | 3 |
| |  |  |

たす

① $7 + 3 =$

たす

② $3 + 1 =$



たしざん 2桁+1桁 くりあがりあり

なまえ

| | | |
|---|----------------------|---|
| | 5 | 7 |
| + | <input type="text"/> | 6 |
| | 6 | 3 |

たす

① $7 + 6 = 13$

たす

② $5 + 1 = 6$

| | | |
|---|----------------------|---|
| | 7 | 2 |
| + | <input type="text"/> | 9 |
| | | |

たす

① $2 + 9 =$

たす

② $7 + 1 =$

| | | |
|---|----------------------|---|
| | 5 | 7 |
| + | <input type="text"/> | 4 |
| | | |

たす

① $7 + 4 =$




たす

② $5 + 1 =$



たしざん 2桁+1桁 くりあがりあり

なまえ




| | | |
|---|---|---|
| | 1 | 8 |
| + |  | 5 |
| |  |  |

たす

① $8 + 5 = 13$

たす

② $1 + 1 = 2$




| | | |
|---|---|---|
| | 4 | 3 |
| + |  | 7 |
| |  |  |

たす

① $3 + 7 =$

たす

② $4 + 1 =$

| | | |
|---|---|---|
| | 6 | 7 |
| + |  | 7 |
| |  |  |

たす

① $7 + 7 =$

たす

② $6 + 1 =$



たしざん 2桁+1桁 くりあがりあり

なまえ

| | | |
|---|----------------------|---|
| | 5 | 6 |
| + | <input type="text"/> | 5 |
| | 6 | 1 |

たす

① $6 + 5 = 11$

たす

② $5 + 1 = 6$

| | | |
|---|----------------------|---|
| | 2 | 6 |
| + | <input type="text"/> | 8 |
| | | |

たす

① $6 + 8 =$

たす

② $2 + 1 =$

| | | |
|---|----------------------|---|
| | 4 | 5 |
| + | <input type="text"/> | 6 |
| | | |

たす

① $5 + 6 =$

たす

② $4 + 1 =$



たしざん 2桁+1桁 くりあがりあり

なまえ

| | | |
|---|---|---|
| | 3 | 7 |
| + | | 6 |
| | 4 | 3 |

たす

① $7 + 6 = 13$

たす

② $3 + 1 = 4$

| | | |
|---|---|---|
| | 7 | 4 |
| + | | 8 |
| | | |

たす

① $4 + 8 =$

たす

② $7 + 1 =$

| | | |
|---|---|---|
| | 6 | 9 |
| + | | 6 |
| | | |

たす

① $9 + 6 =$

たす

② $6 + 1 =$

